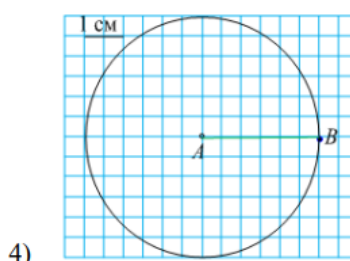
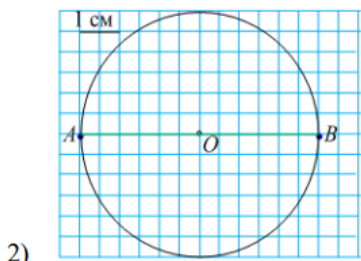
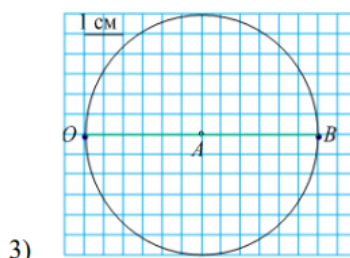
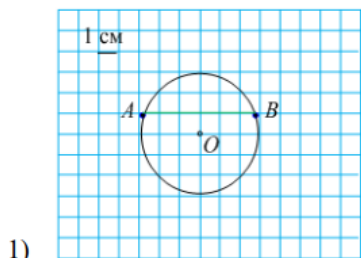


## Итоговая контрольная работа по математике 5 класс

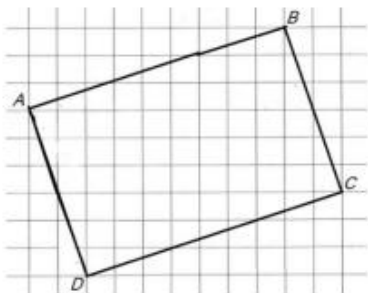
Демонстрация

- Сравните числа: а) 51 382 и 51 841; б)  $\frac{9}{8}$  и  $\frac{7}{6}$ ; в) 7,43 и 7,34.
- Высота горы 3 624 метра. Сколько это примерно километров?
- Автотурист выбрал маршрут длиной 180 км. Он проехал по маршруту 3 часа со скоростью 42 км/ч. Сколько километров ему осталось проехать по маршруту?
- Запишите номер рисунка, на котором верно выполнены построения:
  - отметили точку  $O$  – центр окружности;
  - провели окружность радиусом 3 см с центром в точке  $O$ ;
  - провели диаметр окружности и обозначили его  $AB$



5. Выполните задания:

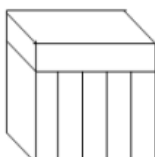
- скопируйте прямоугольник ABCD в тетрадь;
- измерьте и запишите длины сторон прямоугольника ABCD;
- используя результаты измерений, вычислите площадь прямоугольника ABCD.



$$\left( 3\frac{1}{6} - 5\frac{1}{6} : 4\frac{2}{15} \right) \cdot \frac{3}{92}$$

6. Найдите значение выражения:

7. Параллелепипед, изображённый на рисунке, сложен из пяти одинаковых брусков с измерениями 1 см, 3 см и 8 см. Определите измерения полученного параллелепипеда.



Оценивание.

номер задания	1	2	3	4	5а	5б	5в	6	7
баллы	3	1	2	1	1	1	2	3	4

Всего 18 баллов

Оценки «2» 1-6 баллов, «3» 7-10 баллов, «4» 11-14 баллов, «5» 15- 18 баллов